



YOUTUBE : KAZIM CEYLAN

Kanalımıza Abone Olmayı Unutmayalım!

4. SINIF 1. ÜNİTE

GENEL TEKRAR

SORU ÇÖZÜMÜ – 1

1) 5263 sayısında 5'in basamak değeri ile 6'nın basamak değerinin toplamı kaçtır?

A) 6050

B) 5006

C) 5060

D) 5600

2) “Dört bin yüz beş” sayısı hangisidir?

A) 4015

B) 4105

C) 1405

D) 4150

3) 35127 sayısında binler bölümünde bulunan rakamları toplamı kaçtır?

A) 8

B) 9

C) 6

D) 10

4) 36105 sayısının okunuşu aşağıdakilerden hangisidir?

- A) Otuz altı bin on beş
- B) Otuz bin altı yüz on beş
- C) Otuz altı bin yüz beş
- D) Otuz altı bin yüz elli

5) 502015 sayısının okunuşu aşağıdakilerden hangisidir?

- A) Beş yüz iki bin yüz beş
- B) Beş yüz yirmi bin on beş
- C) Beş yüz iki bin on beş
- D) Beş yüz yirmi bin on beş

6) Çözömlenmiş olarak verilen sayı kaçtır?

* 6 on binlik + 5 binlik + 3 yüzlük + 5 birlik

- A) 605305
- B) 65035
- C) 65305
- D) 63505

7) 4285, 5285, ■, 7285, ▲

$$\blacksquare + \blacktriangle = ?$$

- A) 14575
- B) 14570
- C) 13600
- D) 12750

8) 1871 sayısının en yakın yüzlüğe yuvarlanmış şekli aşağıdakilerden hangisidir?

- A) 1870 B) 1900
C) 2000 D) 1700

9) $\square = 5427$
 $\blacktriangle = 992$
 $\blacksquare = 11111$

\square , \blacktriangle ve \blacksquare 'nin büyükten küçüğe sıralaması aşağıdakilerden hangisidir?

- A) $\blacksquare > \blacktriangle > \square$ B) $\blacksquare > \square > \blacktriangle$
C) $\blacktriangle > \blacksquare > \square$ D) $\square > \blacktriangle > \blacksquare$

10) Rakamları farklı en büyük dört basamaklı sayı ile en küçük üç basamaklı sayısının toplamı kaçtır?

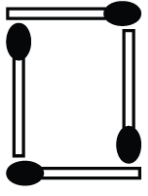
- A) 9876 B) 9988
C) 9976 D) 10010

11) 5, 9, 13, 17, ...

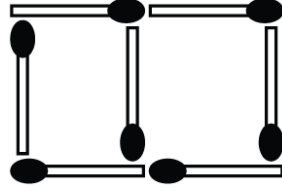
Yukarıda verilen sayı örüntüsünün 50. Sayısı kaçtır?

- A) 199 B) 201
C) 205 D) 209

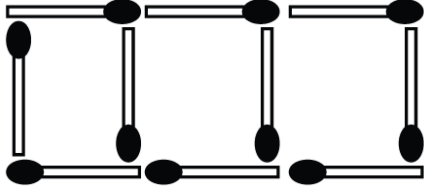
12)



1. Şekil



2. Şekil



3. Şekil

Yukarıdaki şekil örüntüsüne göre 20. Şekilde kaç tane kibrit çöpü kullanılır?

- A) 90 B) 61 C) 62 D) 65

13) Rakamları farklı dört basamaklı en küçük sayı ile rakamları farklı en büyük üç basamaklı sayının toplamı kaçtır?

- A) 2100 B) 2010
C) 2001 D) 2110

14) Bir televizyonu 1500TL'lik 5 taksit ile alıyoruz. Toplam kaç TL öderiz?

- A) 8500 B) 7500
C) 6500 D) 5500

15) $1987 - 999 = ?$

A) 988

B) 986

C) 978

D) 999

16) 3, 5, 2, 1 rakamları ile yazılabilecek dört basamaklı rakamları farklı en büyük sayı ile rakamları farklı dört basamaklı en küçük sayının toplamı kaçtır?

A) 5665

B) 6556

C) 6656

C) 7565

17) Altı basamaklı bir sayının binler bölümü en küçük tek sayılarda, birler bölümü en büyük çift sayılardan oluşuyor.

Bu sayı kaçtır?


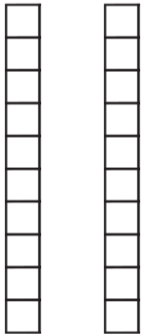



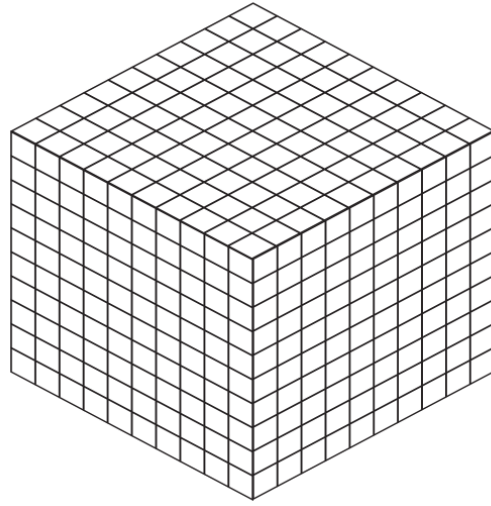
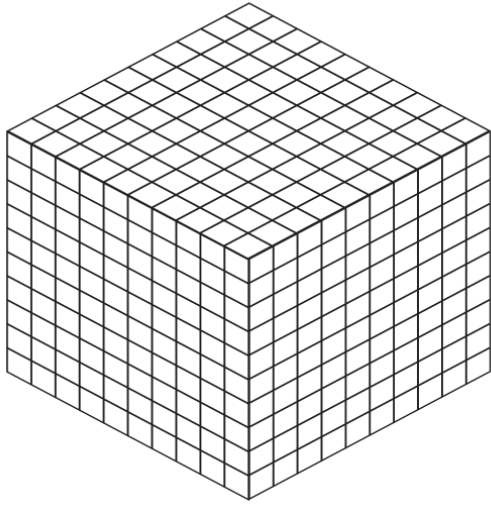
A) 111999

B) 888111

C) 111888

D) 777111

18)



Yandaki bloklarla gösterilen sayı kaçtır?

A) 3210

B) 2323

C) 3223

D) 2332