

YouTube: KAZIM CEYLAN (Abone olmayı unutmayalım)

## 4. SINIF 2021-2022 GENEL TEKRAR SORU ÇÖZÜMÜ-10

Soru 1. Aşağıdakilerden hangisi üçgen çeşidi değildir?

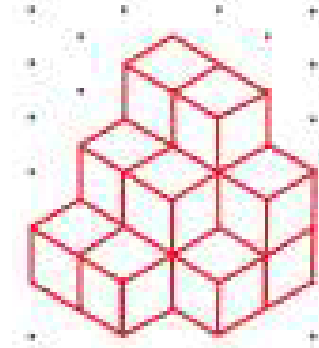
- A) Eşkenar üçgen
- B) Çeşitkenar üçgen
- C) Birimkenar üçgen
- D) İkizkenar üçgen

Soru 2. Bir küpte kaç tane ayrıt vardır?

- A) 4
- B) 6
- C) 8
- D) 12

Soru 3. Aşağıdaki yapıyı oluşturmak için kaç

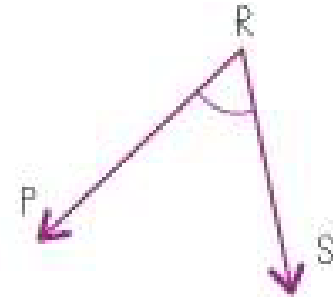
tane eş küp kullanılmıştır?



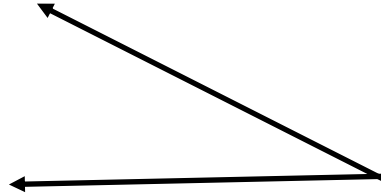
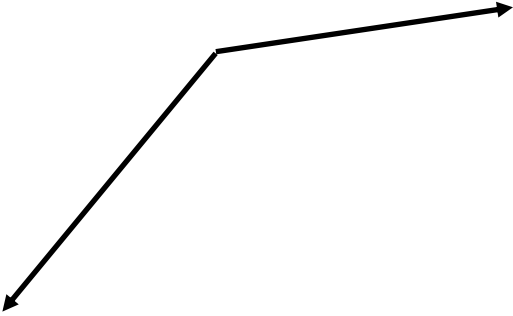
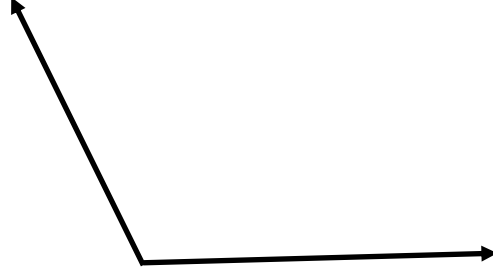
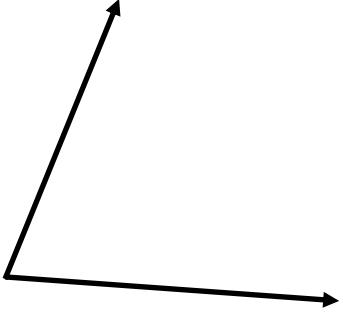
- A) 9
- B) 12
- C) 15
- D) 18

Soru 4. Aşağıdaki açının isimlendirilmesi hangisinde doğru olarak yapılmıştır?

- A)  $\widehat{PSR}$
- B)  $\widehat{RSP}$
- C)  $\widehat{SPR}$
- D)  $\widehat{SRP}$




**Soru 5.** Aşağıdaki açları isimlendiriniz, ölçülerini açıölçer ile ölçerek bulunuz.

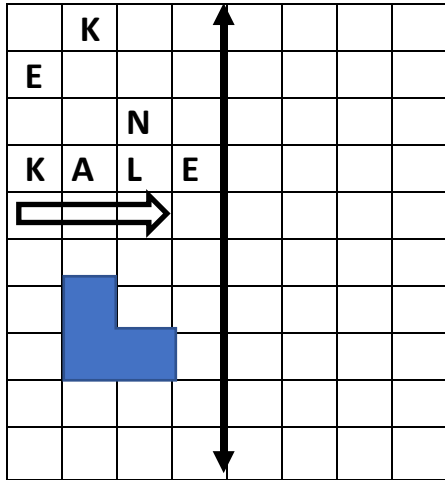


**Soru 6.** Cetvel ve açıölçer kullanarak; ölçüsü  $60^\circ$ ,  $85^\circ$ ,  $120^\circ$  ve  $160^\circ$  olan açları çiziniz.

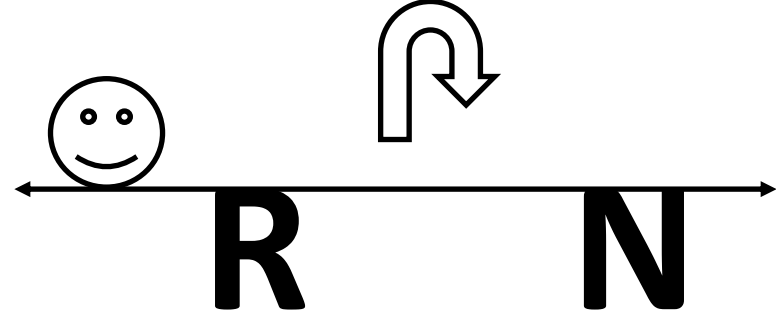
**Soru 7.** Aşağıda verilen şekillerin simetri doğrularını çiziniz



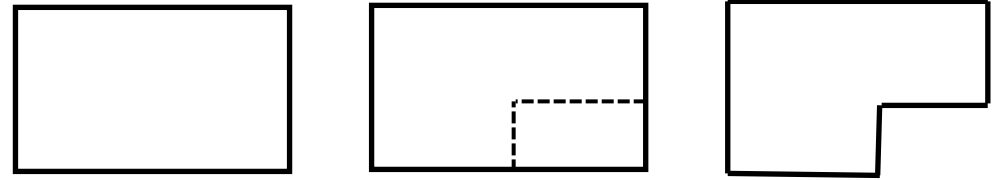
**Soru 8.** Aşağıdaki şekil ve harflerin doğruya göre simetrilerini(yansımalarını) çiziniz.



**Soru 9.** Aşağıdaki şekillerin doğruya göre simetrilerini(yansımalarını) çiziniz.



**Soru 10.** Aşağıdaki dikdörtgenin çevresi 30 cm'dir. Bu dikdörtgen kesikli çizgilerin olduğu yerden kesilip atılıyor. Kalan şeklin çevresi kaç cm olur?



- A) 22      B) 25  
C) 30      D) 36

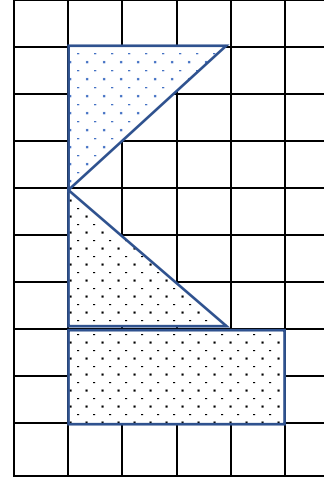
**Soru 11.**



Yukarıdaki şekilde kare olan bölgelerin alanları verilmiştir. Buna göre verilmeyen dikdörtgenlerin alanları toplamı kaç birim kare olur?

- A) 75
- B) 52
- C) 48
- D) 40


**Soru 12.**



Yukarıdaki birim kareler içerisine çizilen şeklin toplam alanı kaç birim kare olur?

- A) 15
- B) 17
- C) 21
- D) 24

**Soru 13.**



Yukarıdaki dikdörtgenin kenar uzunlukları doğal sayılardır. Bu dikdörtgenin alanı 45 birim kare olduğuna göre çevresi en az kaç birim olur?

- A) 28
- B) 36
- C) 66
- D) 92

**Soru 14.** Kare şeklindeki bir bahçenin alanı 81 birim karedir. Bu bahçenin çevresine 5 sıra tel çevirmek istiyoruz. Telin 1 birim uzunluğu 5 TL olduğuna göre bu tel için kaç TL ödeme yaparız?

- A) 180
- B) 450
- C) 650
- D) 900