




YOUTUBE : KAZIM CEYLAN

Kanalımıza Abone Olmayı Unutmayalım!

4. SINIF 2021-2022 GENEL TEKRAR SORU ÇÖZÜMÜ-3

1)  Bir tavla zarı 4 defa havaya atılıyor. Üst yüzeye gelebilecek rakamlarla dört basamaklı sayılar oluşturulacaktır.

Oluşturacağımız dört basamaklı rakamları farklı en büyük ve rakamları farklı dört basamaklı en küçük sayının toplamı kaç olur?


A) 10999

B) 9999

C) 8888

D) 7777

2)

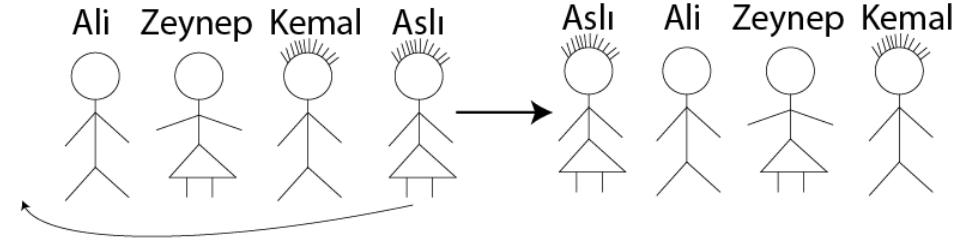


Ali, Zeynep,
Kemal ve Aslı
isminde 4 arkadaş,

baştaki sona geçecek şekilde oyun oynuyorlar. Örneğin:

İlk durum

Sonraki durum



Buna göre hareketi 100 defa tekrarlıyorlar. 100. Durumda sıranın sonunda kim olur?

A) Ali B) Zeynep C) Kemal D) Aslı

3) PANDEMİPANDEMİPANDEMİ.....

Şeklinde 100 defa "PANDEMİ" yazıyoruz. Baştan 450. Harf aşağıdakilerden hangisidir?

- A) P B) A C) N D) D

4)
$$\begin{array}{r} A \\ - B \\ \hline C \end{array}$$
 Bir çıkarma işleminde eksilen, çıkan ve farkın toplamı 500 olduğuna göre eksilen kaçtır?

- A) 500 B) 375
C) 300 D) 250

5) Üç basamaklı rakamları farklı en büyük tek sayı, dört basamaklı rakamları farklı en küçük çift sayıdan kaç eksiktir?

- A) 137 B) 62
C) 37 D) 24

6) 5, 9, 13, ▲, ■, 25... sayı örüntüsünde ▲ + ■ = ?

- A) 26 B) 34 C) 38 D) 42

7) Dört bireyden oluşan bir ailede baba 50 yaşındadır. Annenin yaşı babadan 3 eksiktir. Kız çocuğunun yaşı annenin yaşında 20 eksik, erkek çocuğun yaşı babadan 30 eksiktir. Buna göre tüm aile bireylerinin yaşları toplamı kaçtır?

A) 134

B) 144

C) 147

D) 154

8) Anıtkabir'i;

Birinci gün 1200 evli çift,

İkinci gün 1250 tane 3 kişilik aile

Üçüncü gün 2400 tane dört kişilik aile ziyaret etmiştir.

Üç günde Anıtkabir'i kaç kişi ziyaret etmiştir.

A) 6850

B) 12500

C) 14400

D) 15750

9) Ahmet'in 1450 tane misketi vardır. İlk gün 250 tanesinin arkadaşı Elif'e, ikinci gün de Elif'e verdiği 25 tane fazlasını Murat'a veriyor. Ahmet'te kaç tane misket kalır?

- A) 1025 B) 975
C) 925 D) 875

10) Aralarında 5 fark olan dört doğal sayının toplamı 130'dur. Buna göre bu sayıların en büyüğü kaçtır?

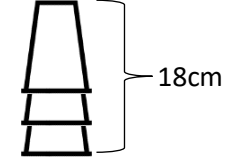
- A) 25 B) 30 C) 35 D) 40

11) Ali'nin babasının maaşı 5500 TL'dir. 1750 TL'sini taksitlere 1300 TL'sini yiyeceklere 1250 TL'sini genel harcamaya ayırıyor. Geriye kaç TL paraları kalır?

- A) 1800 B) 1200
C) 800 D) 700

12) Emine ile annesinin yaşları toplamı 40'tır. Emine doğduğunda annesi 30 yaşındaydı. Buna göre Emine annesinin yaşına geldiğinde annesi kaç yaşında olacaktır?

- A) 60 B) 65 C) 70 D) 75



Buna göre 50 tane bardak ile kule yaparsak kulenin boyu kaç cm olur?

- A) 196 B) 204
C) 206 D) 216