



TEMEL GEOMETRİK ÇİZİMLER ARAÇ GEREÇ KULLANIMI

Aşağıda çizimi verilen araç gereçlerin uzunluklarını cetvel kullanarak ölçelim.



	Başlangıç noktası	Bitiş noktası	Uzunluk
Kalem			
Kalemıraş			

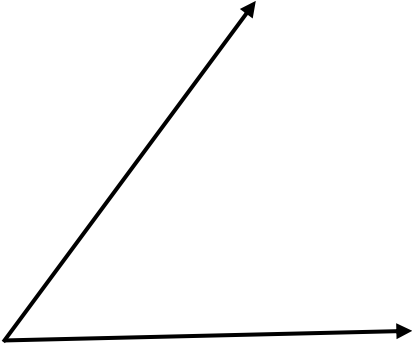
Ö: Aşağıdaki doğru parçasının uzunluğunu ölçerek bulunuz.



Ö: Aşağıda verilen ölçülerini bulalım. isimlendirerek yazalım.

açıların
Açıları

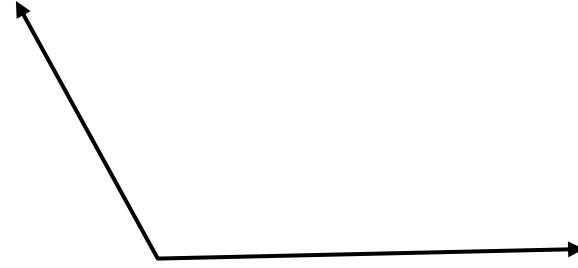
1)



2)




3)



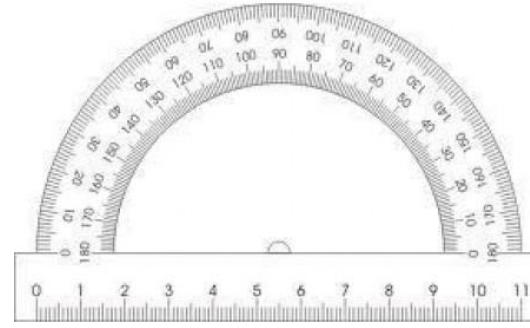
Matematikte şekilleri çizmek için birçok araç vardır. Bunların bazıları aşağıda gösterilmiştir. Bu araçların isimlerini ve hangi şekli çizmek için kullanıldığını biliyor musunuz?



.....



.....



.....



.....

**Ö: Uzunluđu 10 cm olan bir çizgi
çiziniz.**

**Ö: Ölçüsü 70 derece olan bir açı
çiziniz**

**Ö: Gönye ile birbirine dik doğru
parçaları çiziniz.**

**Ö: Bu bölüme farklı büyüklüklerde
3 tane çember çiziniz.**

**Ö: Ölçüsü 90 dereceden büyük bir
açı çiziniz.**

**Ö: Ölçüsü 42 derece olan bir açı
çiziniz.**