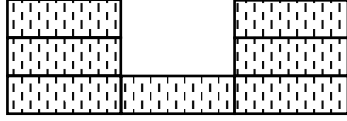


# ÖRÜNTÜLER

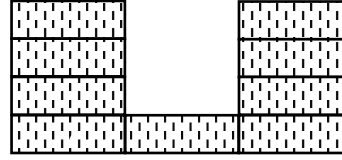
Örnek:



1. Şekil



2. Şekil



3. Şekil

Şekil dikdörtgenlerden oluşturulmuştur.

\* Kuralı bulalım.


\* 50. Şekilde kaç tane dikdörtgen kullanılır.

Örnek: 2, 5, 8, 11, .... Sayı örüntüsünün kuralını bulalım. 100. Sayı kaçtır? hesaplayalım.


Örnek:



1. Şekil



2. Şekil



3. Şekil

Yandaki şekiller eş çemberlerden oluşturulmuştur.

Örüntü kuralını bulalım.

50. şekilde kaç tane çember vardır? Hesaplayalım.

Örnek: 4, 9, 14, 19, .... Sayı örüntüsünün kuralını bulalım. 40. Sayı kaçtır? hesaplayalım.