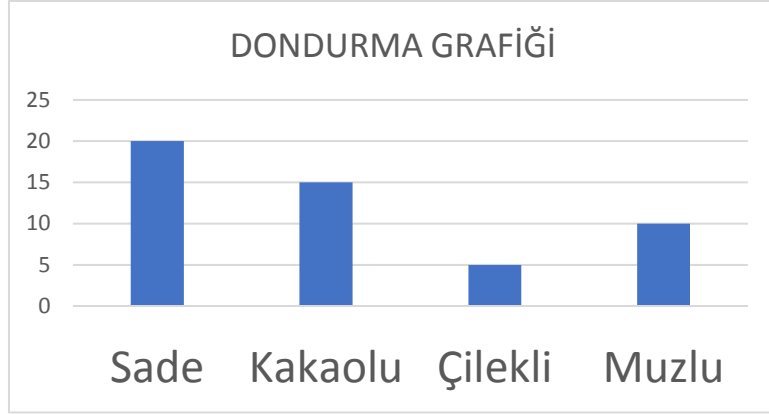


# VERİ İŞLEME

Ö: Grafik: Arama çeşidine göre dondurma sayıları



Yukarıdaki verilen dondurma çeşidi grafiğini çetele tablosu ile gösterelim

Dondurma Çeşidi	Dondurma Sayısı

Tablo:

Ö: Aşağıdakilerden hangisi araştırma sorusu olabilir?

a) Sınıfta kim hangi futbol takımını tutuyor?

b) Ahmet'in en çok sevdiği meyve hangisidir?

c) Okulumuzdaki öğrencilerin en çok sevdiği dersler hangisidir?

Not: Araştırma soruları bir gruba yöneltilmeli ve birden çok cevap alınmalıdır.

Ö: “Çocukların en çok sevdiği çizgi film hangisidir?” sorusu kime sorulmalıdır?

- A) Üniversitede okuyan öğrencilere
- B) Doktorlara
- C) Küçük çocuğu olan annelere
- D) 0-1 yaş arası bebeklere

Not: Bir araştırma sorusu doğru kişilere sorulmalıdır. Yani araştırma yapılacak olan grup doğru seçilmelidir.

## Sıklık Tablosu ve Sütun Grafiği

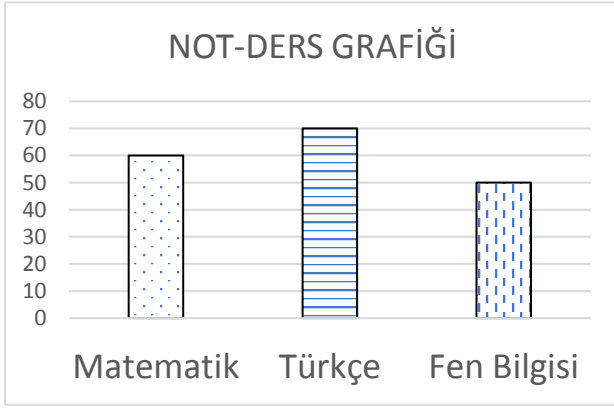
Ö: Bir sınıfta hangi futbol takımının tutulduğu ile ilgili araştırma yapılmış ve buna göre çetele tablosu oluşturulmuştur. Bu tabloya uygun sütun grafiği oluşturalım.

Tablo: Futbol takımı taraftar sayıları

Takım	Kişi Sayısı
Galatasaray	+ + + + + +
Beşiktaş	+ + + + + + + +
Fenerbahçe	+ + + + + + +
Trabzonspor	+ + + +

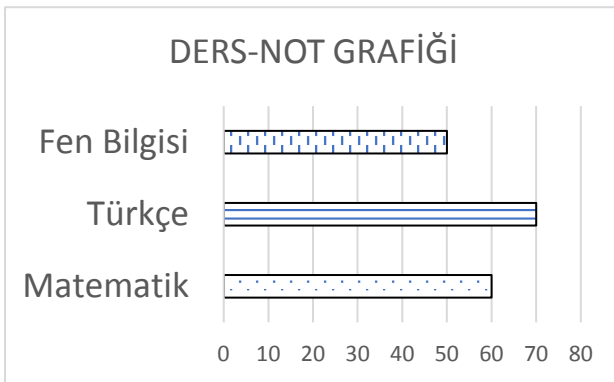
Not: Grafiđi oluřtururken;

- Grafik adı yazılmalıdır.
- Yatay ve dikey eksenlerin neyi belirttiđi yazılmalıdır.
- Grafikte satırlar ve sütünlar arası eřit olmalıdır.



Grafik: Bir öđrencinin Notları

Not:  
Grafikte Sütünlar dikey veya yatay olabilir.



Ö: Ařađıda aynı veriye ait üç farklı grafik verilmiřtir.

